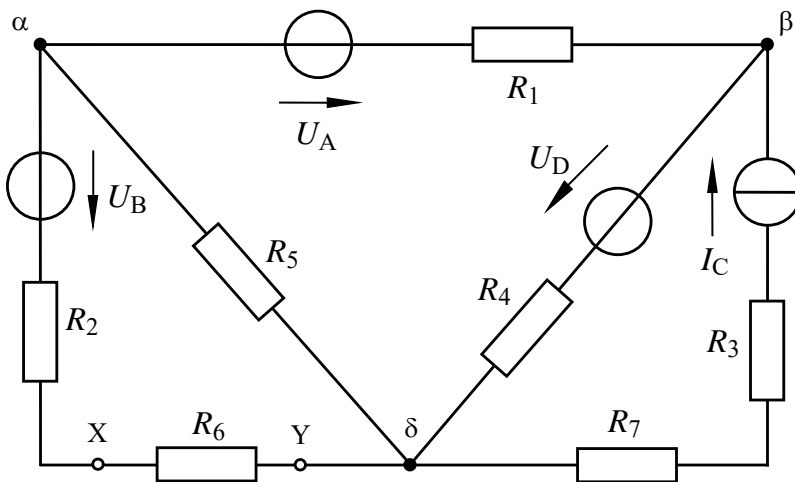


Aufgabenstellung zur Übungsaufgabe ÜA_1_5.4.C:

- a) Diese Übungsaufgabe soll zunächst in Kombination von Maschensatz, Überlagerungssatz und Zweipoltheorie gelöst werden. Gesucht sind die Elemente der Spannungsquellen-Ersatzschaltung.
- b) In einer zweiten Lösungsvariante ist für beide Analyseverfahren das vollständige Koeffizientenschema aufzustellen. Es ist eine Entscheidung über das optimale Lösungsverfahren abzuleiten. Gesucht sind die Zahlenwerte der Größen, die eine vollständige Leistungsbilanz ermöglichen.
- c) Führen Sie für die Lösung von b) eine PSPICE-Simulation zur Probe durch.
- d) *Zusatzaufgabe:* Stelle Sie eine vollständige Leistungsbilanz (V-ZPS) auf.

- a) Rechnen Sie das Netzwerk mit dem Maschensatz und dem Überlagerungssatz für die angegebene Trennstelle X – Y in die Spannungsquellen-Ersatzschaltung um. Der Lastwiderstand R_a ist gleich R_6 . Gesucht ist eine allgemeine Lösung: $U_L = f(U_A; U_B; I_C; U_D; R)$ bzw.: $R_i = f(R)$.



Geg.:

$$U_q = 10 \text{ V}$$

$$U_A = U_B = U_q$$

$$I_C \cdot R = U_D = U_q$$

alle $R = 1 \text{ k}\Omega$

Bild ÜA_1_5.4.C

- b1) Stellen Sie für das vorgegebene Netzwerk das vollständige Koeffizientenschema über die Umlaufanalyse auf und berechnen Sie daraus den Strom durch den Widerstand R_1 . Gesucht ist eine allgemeine Lösung: $I_1 = f(U_A; U_B; I_C; U_D; R)$.
- b2) Ermitteln Sie über die Knotenanalyse unter Verwendung der angegebenen Bauelementewerte die Potentiale aller angegebenen Knoten.
- c) Kontrollieren Sie die berechneten Werte für b2) mit einer PSPICE-Simulation.

Zu a) **Zweipoltheorie** (in Kombination mit dem Maschensatz und dem Überlagerungssatz):

• Innenwiderstand: $R_i = R_2 + R_5 // (R_1 + R_4) = 1,6 R$

• Maschensatz: $U_L(\rightarrow) = U_{XY} = I_5 R_5 - U_B = U_5(\downarrow) - U_B$

• Überlagerungssatz: $I_5 = I_{5A} + I_{5D} + I_{5C}$ ($I_{5B} = 0$, weil U_B im Leerlauf)

$$I_5 = \frac{U_A}{R_1 + R_4 + R_5} + \frac{U_D}{R_1 + R_4 + R_5} + I_C \frac{R_4}{R_1 + R_4 + R_5} = \frac{U_A + U_D + I_C R}{3R}$$

• Leerlaufspannung: $U_L = \frac{U_A + U_D + I_C R}{3R} R - U_B = \frac{U_A - 3U_B + I_C R + U_D}{3}$

Zu b) **Allgemeine Netzwerkanalyse:** $z = 5; (k - 1) = 2; m = 3$

• **Koeffizientenschema über die Umlaufanalyse** (Maschenströme siehe Graph):

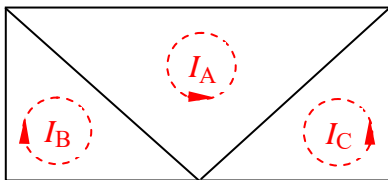


Bild ÜA_1_5.4.C_1: Graph zum Bild ÜA_1_5.4.C

Tabelle ÜA_1_5.4.C_1: Koeffizientenschema für die Umlaufanalyse

	$I_A = I_1$	$I_B = I_{26}$	$I_C = I_{37}$	Abs.
(1)	$R_1 + R_4 + R_5$	R_5	$-R_4$	$U_A + U_D$
(2)	R_5	$R_2 + R_5 + R_6$	0	U_B
(3)	$-R_4$	0	$R_3 + R_4 + R_7$	$U_C - U_D$

• **Koeffizientenschema über die Knotenanalyse** (Bezugsknoten δ):

Tabelle ÜA_1_5.4.C_2: Koeffizientenschema für die Knotenanalyse mit $\varphi_\delta = 0$

	φ_α	φ_β	Abs.
(1)	$\frac{1}{R_1} + \frac{1}{R_5} + \frac{1}{R_2 + R_6}$	$-\frac{1}{R_1}$	$\frac{U_A}{R_1} + \frac{U_B}{R_2 + R_6}$
(2)	$-\frac{1}{R_1}$	$\frac{1}{R_1} + \frac{1}{R_4}$	$-\frac{U_A}{R_1} + I_C + \frac{U_D}{R_4}$

• **Optimales Analyseverfahren** (Variantenvergleich):

- a) Umlaufanalyse: $m = 3$ (abzügl. 1 Gleich. für I_C) \Rightarrow 2 Gleichungen
- b) Knotenanalyse: $(k - 1) = 2$ (keine ideale Spannungsquelle) \Rightarrow 2 Gleichungen

Beide Verfahren erfordern (formal gesehen) den gleichen Rechenaufwand !

Zu b1) **Berechnung des Stromes I_1 über die Umlaufanalyse** (Koeffizientenschema siehe b):

$$(1) \quad 3R \cdot I_A + R \cdot I_B = U_A + U_D + I_C R$$

$$(2) \quad R \cdot I_A + 3R \cdot I_B = U_B \quad \Rightarrow \quad I_B = \frac{U_B}{3R} - \frac{I_A}{3}$$

$$(2) \text{ in (1) einsetzen: } 3R \cdot I_A + \frac{U_B}{3} - \frac{I_A \cdot R}{3} = U_A + U_D + I_C R$$

$$\frac{8}{3} R \cdot I_A = U_A + U_D + I_C R - \frac{U_B}{3}$$

$$I_A = \frac{U_A + U_D + I_C R - \frac{U_B}{3}}{\frac{8}{3} R}$$

$$\text{mit: } U_A = U_B = I_C R = U_D = U_q$$

$$I_1 = I_A = \frac{3U_A + 3U_D + 3I_C R - U_B}{8R} = \frac{U_q}{R}$$

Zu b2) **Berechnung der Knotenpotentiale mit der Knotenanalyse** (Koeffizientenschema siehe b):

$$(1) \quad \frac{5}{2R} \varphi_\alpha - \frac{1}{R} \varphi_\beta = \frac{U_A}{R} + \frac{U_B}{2R} \quad | \cdot (2R) \quad \Rightarrow \quad 5\varphi_\alpha - 2\varphi_\beta = 2U_A + U_B$$

$$(2) \quad -\frac{1}{R} \varphi_\alpha + \frac{2}{R} \varphi_\beta = -\frac{U_A}{R} + I_C + \frac{U_D}{R} \quad | \cdot (R) \quad \Rightarrow \quad -\varphi_\alpha + 2\varphi_\beta = -U_A + I_C R + U_D$$

$$\text{mit: } U_A = U_B = I_C R = U_D = U_q$$

$$(2) \text{ umstellen: } \varphi_\beta = \frac{-U_A + I_C R + U_D + \varphi_\alpha}{2} = \frac{U_q + \varphi_\alpha}{2}$$

$$\text{in (1) einsetzen: } 5\varphi_\alpha - U_q - \varphi_\alpha = 2U_A + U_B$$

Lösung:
 $\varphi_\alpha = 10 \text{ V}$ und $\varphi_\beta = 10 \text{ V}$

$$\text{Lösung: } \varphi_\alpha = \frac{4U_q}{4} = U_q = 10 \text{ V} \quad \varphi_\beta = U_q = 10 \text{ V}$$

• **Berechnung der Zweigströme aus den Knotenpotentialen:**

$$I_1(\leftarrow) = \frac{U_A - U_{\alpha\beta}}{R_1} = \frac{U_q - \varphi_\alpha + \varphi_\beta}{R} = \frac{10 \text{ V}}{1 \text{ k}\Omega} = 10 \text{ mA}$$

$$I_5(\downarrow) = \frac{\varphi_\alpha - \varphi_\delta}{R_5} = \frac{\varphi_\alpha}{R} = \frac{U_q}{R} = \frac{10 \text{ V}}{1 \text{ k}\Omega} = 10 \text{ mA}$$

$$I_{26}(\uparrow) = \frac{\varphi_\alpha - U_B}{R_2 + R_5} = \frac{U_q - U_q}{2R} = 0 \text{ A}$$

oder über KP-Satz: $I_{26}(\uparrow) = I_5(\downarrow) - I_1(\leftarrow) = 0 \text{ A}$

$$I_{37}(\uparrow) = I_C(\uparrow) = \frac{U_q}{R} = \frac{10 \text{ V}}{1 \text{ k}\Omega} = 10 \text{ mA}$$

Lösung: $I_1 = I_{37} = I_5 = 10 \text{ mA}$; $I_{26} = I_4 = 0$

$$I_4(\uparrow) = \frac{\varphi_\beta - U_D}{R_4} = \frac{U_q - U_q}{R} = 0 \text{ A}$$

oder über KP-Satz: $I_4(\uparrow) = I_1(\leftarrow) - I_C(\uparrow) = 0 \text{ A}$

• Berechnung der Spannung der Stromquelle C über den Maschensatz:

$$U_{\alpha\delta} = U_C - U_{37} = U_C - I_C(R_3 + R_7) = U_C - I_C \cdot 2R$$

$$U_C = U_{\alpha\delta} + U_{37} = \varphi_\alpha + I_C \cdot 2R = 3U_q = 30 \text{ V}$$

Zu c) **Probe über PSPICE** (Kontrolle der Werte von b2):

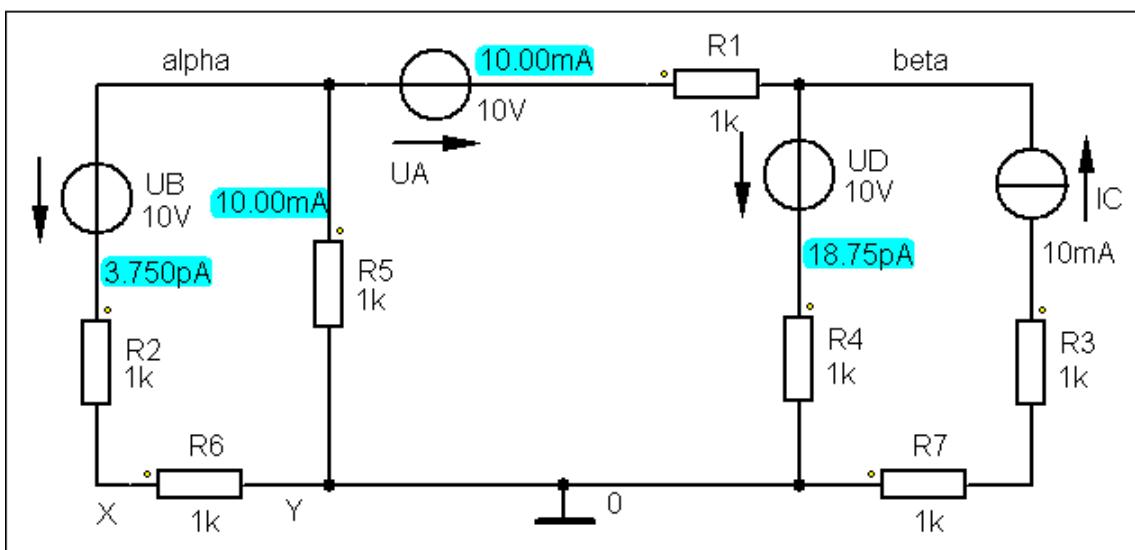
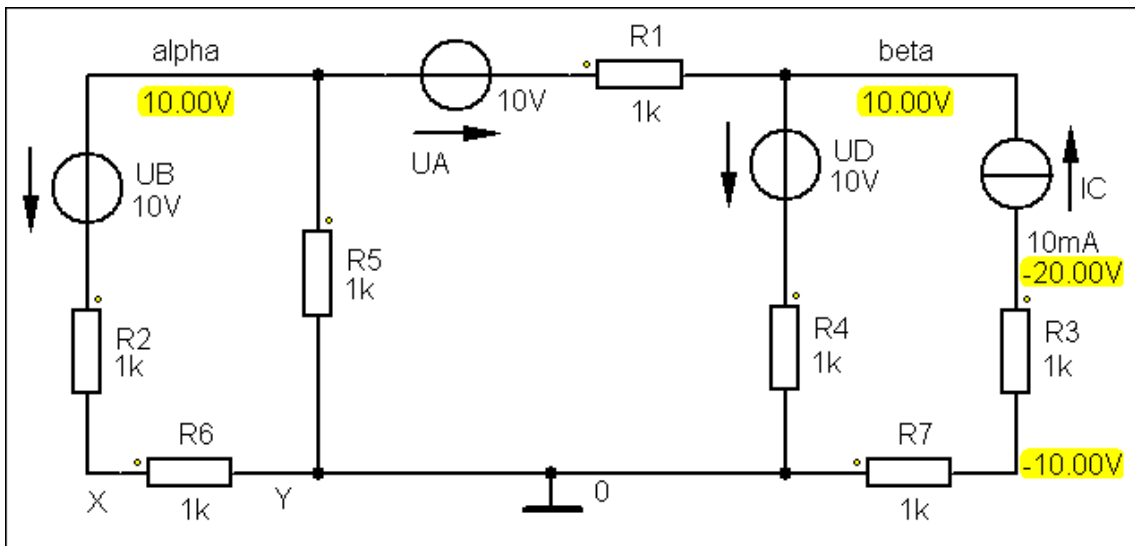


Bild ÜA_1_5.4.C_2: Simulationsergebnisse mit einer DC-Analyse (Arbeitspunkt-Analyse)

d) Zusatzaufgabe:

Berechnen Sie alle Leistungen und stellen Sie die vollständige Leistungsbilanz im Verbraucher-Zählpfeilsystem dar.

• Berechnung der Leistungen:

Tabelle ÜA_1_5.4.C_3: Leistungen im V-ZPS (links: Verbraucher / rechts: Quellen)

$P_{V_x} = I_x^2 \cdot R_x$	P_{V_x} / mW
$P_1 = I_1^2 \cdot R_1$	100
$P_2 = I_2^2 \cdot R_2$	0
$P_3 = I_C^2 \cdot R_3$	100
$P_4 = I_4^2 \cdot R_4$	0
$P_5 = I_5^2 \cdot R_5$	100
$P_6 = I_6^2 \cdot R_6$	0
$P_7 = I_C^2 \cdot R_7$	100
$\Sigma P_{V_x} :$	400

$P_{q_x} = U_{q_x} \cdot I_{q_x}$	P_{q_x} / mW	P_{q_x} / mW
$P_A = U_A \cdot I_1$	$(+10) \cdot (-10)$	- 100
$P_B = U_B \cdot I_{26}$	$(+10) \cdot (0)$	0
$P_C = U_C \cdot I_C$	$(-30) \cdot (+10)$	- 300
$P_D = U_D \cdot I_4$	$(+10) \cdot (0)$	0
$\Sigma P_{q_x} :$		- 400

Die Quellen A und C geben Leistung an das Netzwerk ab (negatives Vorzeichen dargestellt im V-ZPS). Die Quellen B und D sind inaktiv, da in diesen Zweigen kein Strom fließt.

• Aufstellung der vollständigen Leistungsbilanz:

$$\Sigma P = P_1 + P_2 + P_3 + P_4 + P_6 + P_7 + P_A + P_B + P_C + P_D \quad \text{oder:}$$

$$\Sigma P = \Sigma P_V + \Sigma P_q = 0 \quad (???) \quad \Rightarrow \quad \Sigma P = 400 \text{ mW} - 400 \text{ mW} = 0 \quad (!!!)$$

Hinweis: Aufgaben mit vergleichbaren Inhalten finden Sie im:
Übungsbuch [14] – Berechnungsbeispiele 2.2 sowie 5.15 bis 5.19

Ende der zusätzlichen Lösung